

---

# Q-DOG問題集

(就活の教科書)

---

Q-DOGの解説記事はこちら



---

### 例題①: 計算1

Q: 1桁の数字が並んだ用紙の隣り合う数字を足し算してその答えの一の位を記入してください。

最後まで解けなくても時間が終了したら記入をやめ、解けた部分までの正誤を確かめてください。(15秒)

$$\begin{array}{cccccccccccccc} \text{列A} & 9 & 7 & 4 & 5 & 7 & 8 & 9 & 7 & 5 & 4 & 8 & 4 & 8 & 6 \\ & + & + & + & + & + & + & + & + & + & + & + & + & + & + \end{array}$$

---

## 例題①の解答・解説

解答:

$$\begin{array}{rcccccccccccccc} \text{列A} & 9 & 7 & 4 & 5 & 7 & 8 & 9 & 7 & 5 & 4 & 8 & 4 & 8 & 6 \\ & + & + & + & + & + & + & + & + & + & + & + & + & + & + \\ \text{列B} & 6 & 1 & 9 & 2 & 6 & 7 & 6 & 2 & 9 & 2 & 2 & 2 & 2 & 4 \end{array}$$

---

## 例題②: 計算2

Q: 1桁の数字が並んだ用紙の隣り合う数字を足し算してその答えの一の位を記入する作業を15秒で行ってください。

最後まで解けなくても時間が終了したら記入をやめ、解けた部分までの正誤を確かめてください。

列A 8 4 6 6 8 9 7 7 2 1 9 5 3 9  
+ + + + + + + + + + + + +

---

## 例題②の解答・解説

解答:

$$\begin{array}{rcccccccccccccc} \text{列A} & 8 & 4 & 6 & 6 & 8 & 9 & 7 & 7 & 2 & 1 & 9 & 5 & 3 & 9 \\ & & + & + & + & + & + & + & + & + & + & + & + & + & + \\ \text{列B} & 2 & 0 & 2 & 4 & 7 & 6 & 4 & 9 & 3 & 0 & 4 & 8 & 2 & \end{array}$$


### 例題③: 図形

Q: 以下の図形の角の数を足し、

- 計算結果が数字と合致していたら数字を選択
- 合致しなければ「E」選択
- 図形の横に「Q」と書かれていたら「！」を選択


してください。

#### 問題 1



・E ・! ・7

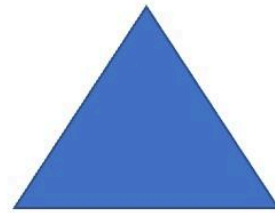
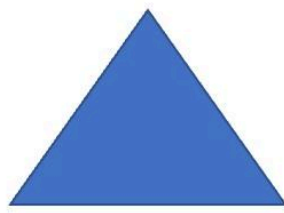

#### 問題 2



・E ・! ・7


---

問題 3



・E ・! ・7

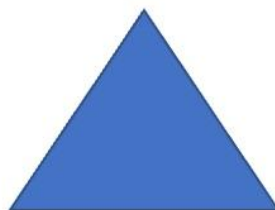
問題 4



・E ・! ・7

問題 5

Q



・E ・! ・7

---

## 例題③の解答・解説

解答:

- 問題1:7
- 問題2:E
- 問題3:E
- 問題4:11
- 問題5:!